

Rechne die Aufgaben aus und schreibe das Ergebnis in das graue Feld.
 Verbinde dann zwei gleiche Ziffern durch eine einzige, durchgehende Linie.
 An jedem grauen Feld beginnt oder endet nur genau eine Linie.
 Die Linien verlaufen nur waagrecht oder senkrecht.
 Die Linien dürfen sich nicht kreuzen.
 Durch jedes Kästchen muss eine Linie laufen.

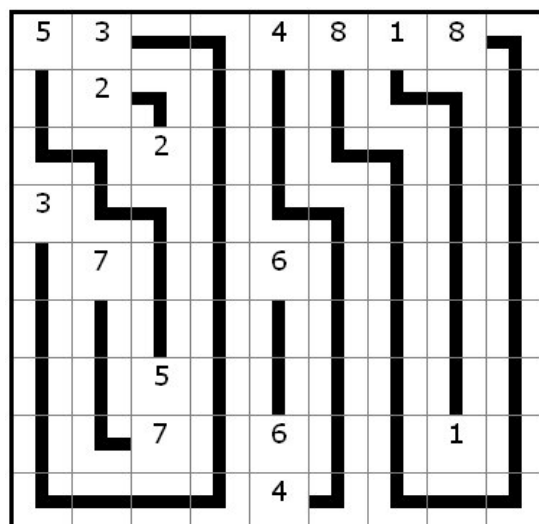
25 : 5	9 : 3			32 : 8	16 : 2	7 : 7	64 : 8	
	10 : 5							
		14 : 7						
21 : 7								
	56 : 8			30 : 5				
		25 : 5						
		14 : 2		36 : 6			4 : 4	
				16 : 4				



Arukone 9 Mathi 1



Lösung nach hinten knicken
 oder abschneiden.



Rechne die Aufgaben aus und schreibe das Ergebnis in das graue Feld.
 Verbinde dann zwei gleiche Ziffern durch eine einzige, durchgehende Linie.
 An jedem grauen Feld beginnt oder endet nur genau eine Linie.
 Die Linien verlaufen nur waagrecht oder senkrecht.
 Die Linien dürfen sich nicht kreuzen.
 Durch jedes Kästchen muss eine Linie laufen.

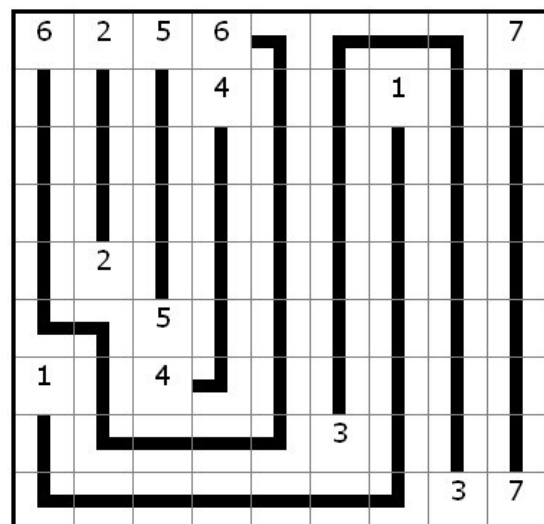
$18 : 3$	$10 : 5$	$10 : 2$	$54 : 9$					$49 : 7$
			$12 : 3$			$2 : 2$		
	$16 : 8$							
		$25 : 5$						
$8 : 8$		$28 : 7$						
					$15 : 5$			
							$24 : 8$	$21 : 3$



Arukone 9 Mathi 2



Lösung nach hinten knicken
 oder abschneiden.



Rechne die Aufgaben aus und schreibe das Ergebnis in das graue Feld.
 Verbinde dann zwei gleiche Ziffern durch eine einzige, durchgehende Linie.
 An jedem grauen Feld beginnt oder endet nur genau eine Linie.
 Die Linien verlaufen nur waagrecht oder senkrecht.
 Die Linien dürfen sich nicht kreuzen.
 Durch jedes Kästchen muss eine Linie laufen.

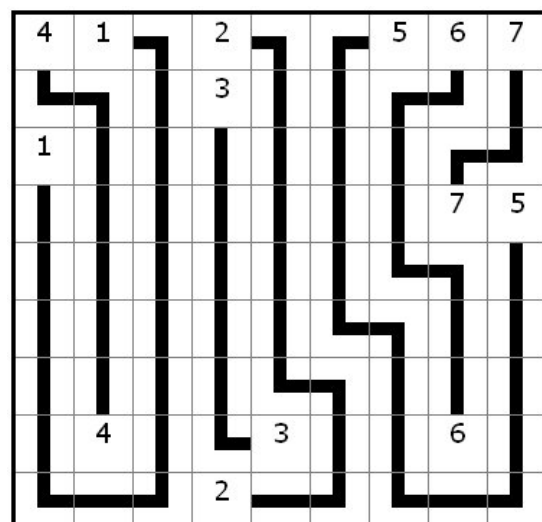
20 : 5	3 : 3		12 : 6			25 : 5	42 : 7	14 : 2
			9 : 3					
6 : 6								
							28 : 4	45 : 9
	36 : 9			27 : 9			48 : 8	
			18 : 9					



Arukone 9 Mathi 3



Lösung nach hinten knicken
 oder abschneiden.



Rechne die Aufgaben aus und schreibe das Ergebnis in das graue Feld.
 Verbinde dann zwei gleiche Ziffern durch eine einzige, durchgehende Linie.
 An jedem grauen Feld beginnt oder endet nur genau eine Linie.
 Die Linien verlaufen nur waagrecht oder senkrecht.
 Die Linien dürfen sich nicht kreuzen.
 Durch jedes Kästchen muss eine Linie laufen.

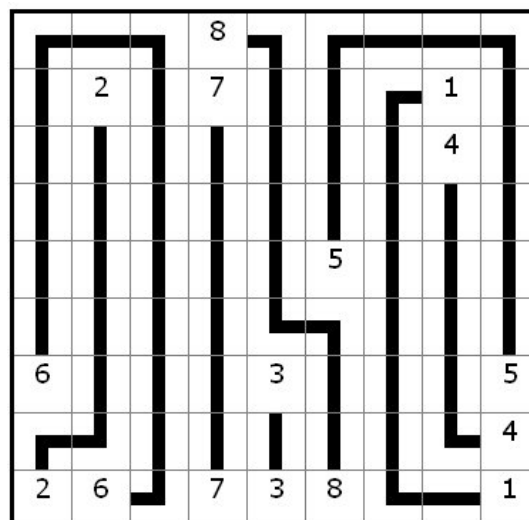
			$64 : 8$					
	$4 : 2$		$21 : 3$				$5 : 5$	
							$32 : 8$	
					$30 : 6$			
$24 : 4$				$24 : 8$				$40 : 8$
								$16 : 4$
$16 : 8$	$54 : 9$		$56 : 8$	$6 : 2$	$16 : 2$			$2 : 2$



Arukone 9 Mathi 4



Lösung nach hinten knicken
 oder abschneiden.



Rechne die Aufgaben aus und schreibe das Ergebnis in das graue Feld.
 Verbinde dann zwei gleiche Ziffern durch eine einzige, durchgehende Linie.
 An jedem grauen Feld beginnt oder endet nur genau eine Linie.
 Die Linien verlaufen nur waagrecht oder senkrecht.
 Die Linien dürfen sich nicht kreuzen.
 Durch jedes Kästchen muss eine Linie laufen.

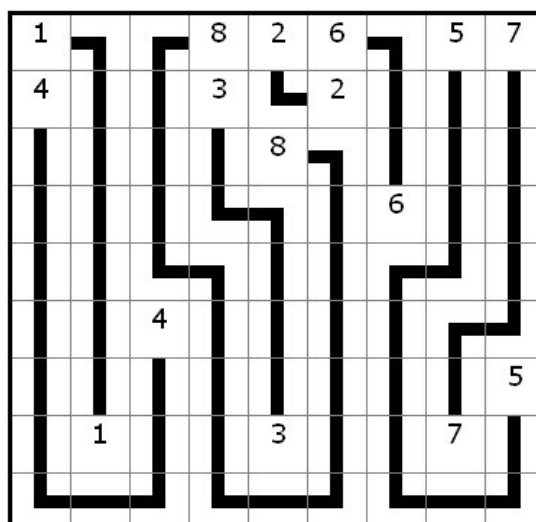
1 : 1			32 : 4	4 : 2	42 : 7		15 : 5	49 : 7
12 : 3			6 : 2		18 : 9			
				40 : 5				
						54 : 9		
		36 : 9						
								40 : 8
	4 : 4			21 : 7			14 : 2	



Arukone 9 Mathi 5



Lösung nach hinten knicken
 oder abschneiden.



Rechne die Aufgaben aus und schreibe das Ergebnis in das graue Feld.
 Verbinde dann zwei gleiche Ziffern durch eine einzige, durchgehende Linie.
 An jedem grauen Feld beginnt oder endet nur genau eine Linie.
 Die Linien verlaufen nur waagrecht oder senkrecht.
 Die Linien dürfen sich nicht kreuzen.
 Durch jedes Kästchen muss eine Linie laufen.

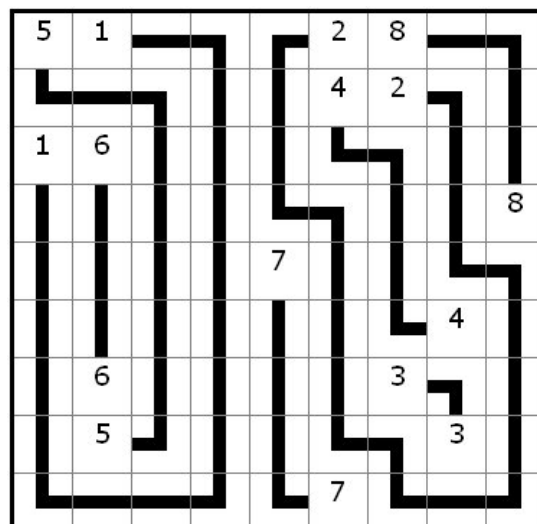
$35 : 7$	$6 : 6$				$8 : 4$	$56 : 7$		
					$16 : 4$	$14 : 7$		
$9 : 9$	$42 : 7$							
								$8 : 1$
				$28 : 4$				
							$12 : 3$	
	$48 : 8$					$15 : 5$		
	$10 : 2$						$21 : 7$	
					$42 : 6$			



Arukone 9 Mathi 6



Lösung nach hinten knicken
 oder abschneiden.



Rechne die Aufgaben aus und schreibe das Ergebnis in das graue Feld.
 Verbinde dann zwei gleiche Ziffern durch eine einzige, durchgehende Linie.
 An jedem grauen Feld beginnt oder endet nur genau eine Linie.
 Die Linien verlaufen nur waagrecht oder senkrecht.
 Die Linien dürfen sich nicht kreuzen.
 Durch jedes Kästchen muss eine Linie laufen.

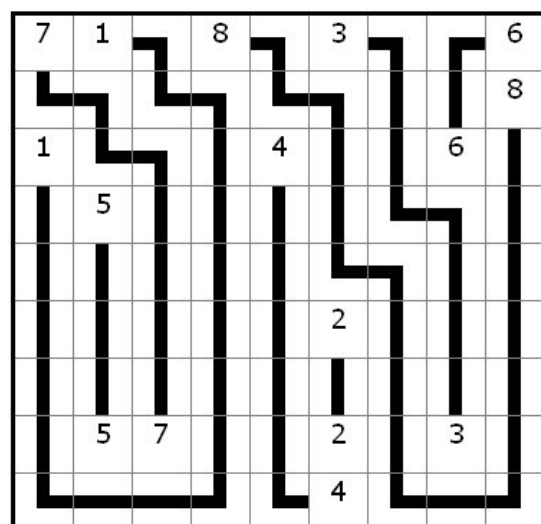
$21 : 3$	$2 : 2$		$24 : 3$		$15 : 5$			$18 : 3$
								$32 : 4$
$5 : 5$				$36 : 9$			$30 : 5$	
	$20 : 4$							
					$4 : 2$			
	$45 : 9$	$7 : 1$			$10 : 5$		$21 : 7$	
					$32 : 8$			



Arukone 9 Mathi 7



Lösung nach hinten knicken
 oder abschneiden.



Rechne die Aufgaben aus und schreibe das Ergebnis in das graue Feld.
 Verbinde dann zwei gleiche Ziffern durch eine einzige, durchgehende Linie.
 An jedem grauen Feld beginnt oder endet nur genau eine Linie.
 Die Linien verlaufen nur waagrecht oder senkrecht.
 Die Linien dürfen sich nicht kreuzen.
 Durch jedes Kästchen muss eine Linie laufen.

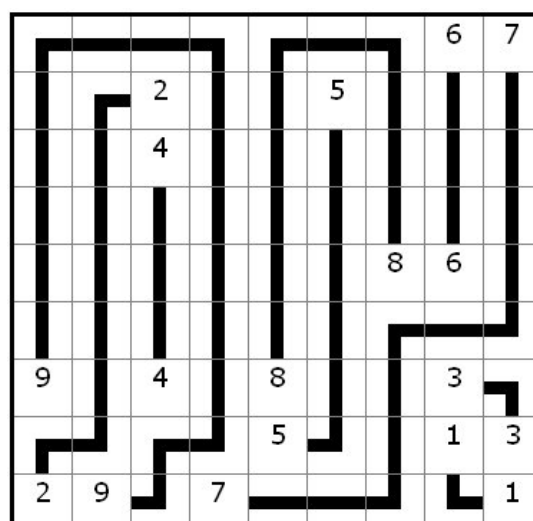
							$36 : 6$	$56 : 8$
		$10 : 5$			$35 : 7$			
		$16 : 4$						
						$64 : 8$	$12 : 2$	
$27 : 3$		$20 : 5$		$16 : 2$			$12 : 4$	
				$45 : 9$			$1 : 1$	$21 : 7$
$8 : 4$	$81 : 9$		$21 : 3$					$2 : 2$



Arukone 9 Mathi 8



Lösung nach hinten knicken
 oder abschneiden.



Rechne die Aufgaben aus und schreibe das Ergebnis in das graue Feld.
 Verbinde dann zwei gleiche Ziffern durch eine einzige, durchgehende Linie.
 An jedem grauen Feld beginnt oder endet nur genau eine Linie.
 Die Linien verlaufen nur waagrecht oder senkrecht.
 Die Linien dürfen sich nicht kreuzen.
 Durch jedes Kästchen muss eine Linie laufen.

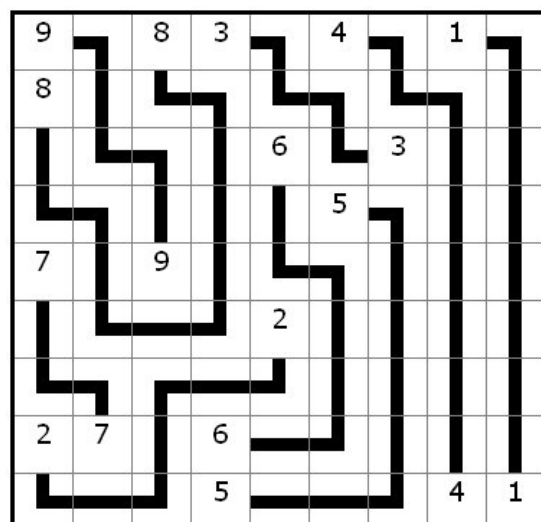
$72 : 8$		$24 : 3$	$27 : 9$		$20 : 5$		$2 : 2$	
$40 : 5$								
				$36 : 6$		$15 : 5$		
					$15 : 3$			
$49 : 7$		$81 : 9$						
				$10 : 5$				
$6 : 3$	$63 : 9$		$18 : 3$					
			$45 : 9$			$36 : 9$	$8 : 8$	



Arukone 9 Mathi 9



Lösung nach hinten knicken
 oder abschneiden.



Rechne die Aufgaben aus und schreibe das Ergebnis in das graue Feld.
 Verbinde dann zwei gleiche Ziffern durch eine einzige, durchgehende Linie.
 An jedem grauen Feld beginnt oder endet nur genau eine Linie.
 Die Linien verlaufen nur waagrecht oder senkrecht.
 Die Linien dürfen sich nicht kreuzen.
 Durch jedes Kästchen muss eine Linie laufen.

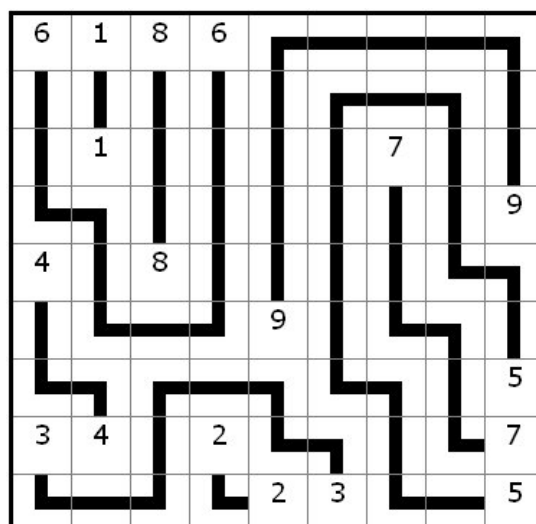
24 : 4	2 : 2	72 : 9	54 : 9					
	5 : 5					21 : 3		
								63 : 7
12 : 3		16 : 2						
				54 : 6				
								45 : 9
9 : 3	8 : 2		4 : 2					35 : 5
				10 : 5	24 : 8			5 : 1



Arukone 9 Mathi 10



Lösung nach hinten knicken
 oder abschneiden.



Rechne die Aufgaben aus und schreibe das Ergebnis in das graue Feld.
 Verbinde dann zwei gleiche Ziffern durch eine einzige, durchgehende Linie.
 An jedem grauen Feld beginnt oder endet nur genau eine Linie.
 Die Linien verlaufen nur waagrecht oder senkrecht.
 Die Linien dürfen sich nicht kreuzen.
 Durch jedes Kästchen muss eine Linie laufen.

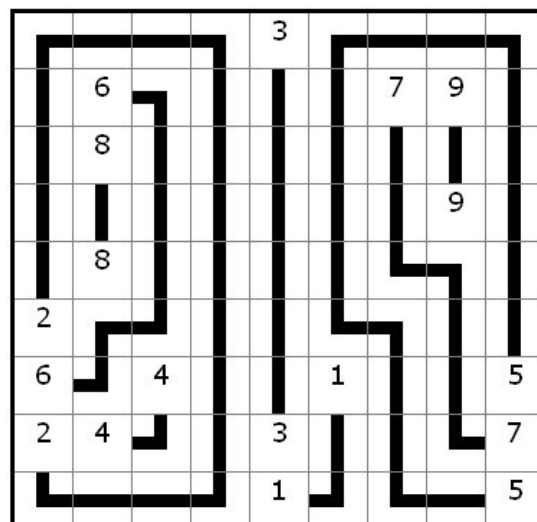
				$21 : 7$				
	$30 : 5$					$42 : 6$	$81 : 9$	
	$40 : 5$							
							$18 : 2$	
	$8 : 1$							
$12 : 6$								
$54 : 9$		$16 : 4$			$9 : 9$			$25 : 5$
$14 : 7$	$32 : 8$			$15 : 5$				$14 : 2$
				$1 : 1$				$35 : 7$



Arukone 9 Mathi 11



Lösung nach hinten knicken
 oder abschneiden.



Rechne die Aufgaben aus und schreibe das Ergebnis in das graue Feld.
 Verbinde dann zwei gleiche Ziffern durch eine einzige, durchgehende Linie.
 An jedem grauen Feld beginnt oder endet nur genau eine Linie.
 Die Linien verlaufen nur waagrecht oder senkrecht.
 Die Linien dürfen sich nicht kreuzen.
 Durch jedes Kästchen muss eine Linie laufen.

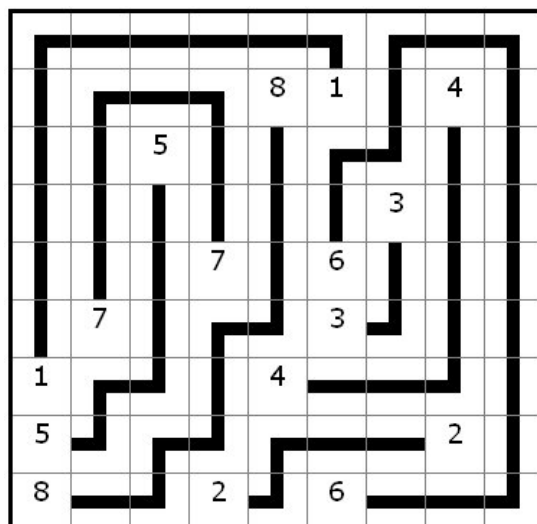
				24 : 3	3 : 3		20 : 5	
		30 : 6						
						18 : 6		
			42 : 6		24 : 4			
	56 : 8				21 : 7			
6 : 6				36 : 9				
45 : 9							18 : 9	
72 : 9			10 : 5		6 : 1			



Arukone 9 Mathi 12



Lösung nach hinten knicken
 oder abschneiden.



Rechne die Aufgaben aus und schreibe das Ergebnis in das graue Feld.
 Verbinde dann zwei gleiche Ziffern durch eine einzige, durchgehende Linie.
 An jedem grauen Feld beginnt oder endet nur genau eine Linie.
 Die Linien verlaufen nur waagrecht oder senkrecht.
 Die Linien dürfen sich nicht kreuzen.
 Durch jedes Kästchen muss eine Linie laufen.

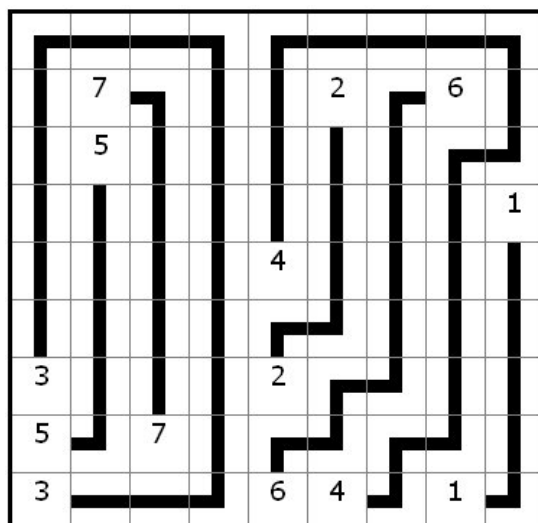
	21 : 3				10 : 5		54 : 9	
	25 : 5							
								1 : 1
				16 : 4				
9 : 3				2 : 1				
15 : 3		28 : 4						
12 : 4				36 : 6	4 : 1		9 : 9	



Arukone 9 Mathi 13



Lösung nach hinten knicken
 oder abschneiden.



Rechne die Aufgaben aus und schreibe das Ergebnis in das graue Feld.
 Verbinde dann zwei gleiche Ziffern durch eine einzige, durchgehende Linie.
 An jedem grauen Feld beginnt oder endet nur genau eine Linie.
 Die Linien verlaufen nur waagrecht oder senkrecht.
 Die Linien dürfen sich nicht kreuzen.
 Durch jedes Kästchen muss eine Linie laufen.

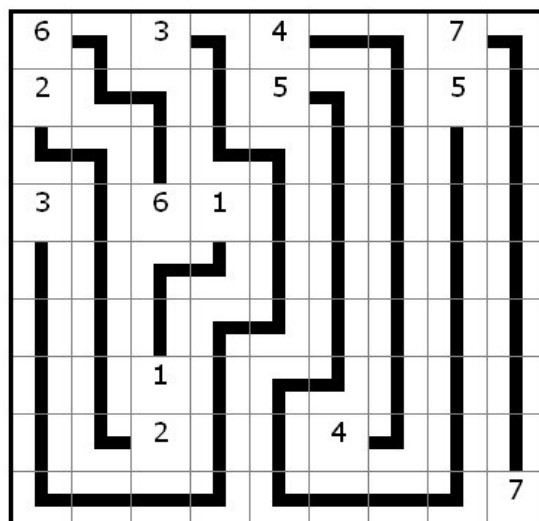
$30 : 5$		$15 : 5$		$36 : 9$			$49 : 7$	
$8 : 4$				$20 : 4$			$30 : 6$	
$12 : 4$		$24 : 4$	$8 : 8$					
		$4 : 4$						
		$10 : 5$			$16 : 4$			
								$63 : 9$



Arukone 9 Mathi 14



Lösung nach hinten knicken
 oder abschneiden.



Rechne die Aufgaben aus und schreibe das Ergebnis in das graue Feld.
 Verbinde dann zwei gleiche Ziffern durch eine einzige, durchgehende Linie.
 An jedem grauen Feld beginnt oder endet nur genau eine Linie.
 Die Linien verlaufen nur waagrecht oder senkrecht.
 Die Linien dürfen sich nicht kreuzen.
 Durch jedes Kästchen muss eine Linie laufen.

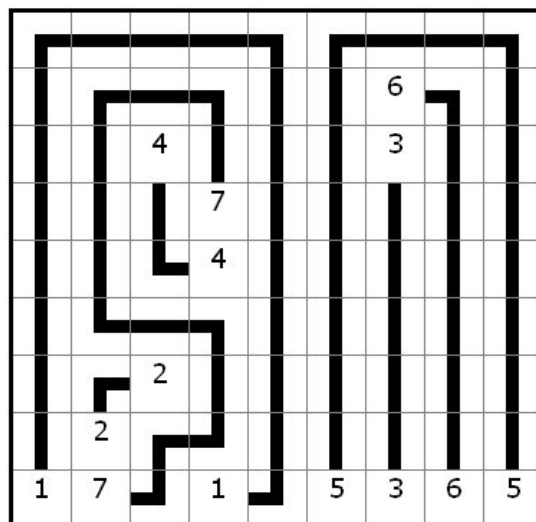
						$6 : 1$		
		$20 : 5$				$15 : 5$		
			$42 : 6$					
			$32 : 8$					
		$10 : 5$						
	$2 : 1$							
$7 : 7$	$35 : 5$		$3 : 3$		$10 : 2$	$12 : 4$	$48 : 8$	$45 : 9$



Arukone 9 Mathi 15



Lösung nach hinten knicken
 oder abschneiden.



Rechne die Aufgaben aus und schreibe das Ergebnis in das graue Feld.
 Verbinde dann zwei gleiche Ziffern durch eine einzige, durchgehende Linie.
 An jedem grauen Feld beginnt oder endet nur genau eine Linie.
 Die Linien verlaufen nur waagrecht oder senkrecht.
 Die Linien dürfen sich nicht kreuzen.
 Durch jedes Kästchen muss eine Linie laufen.

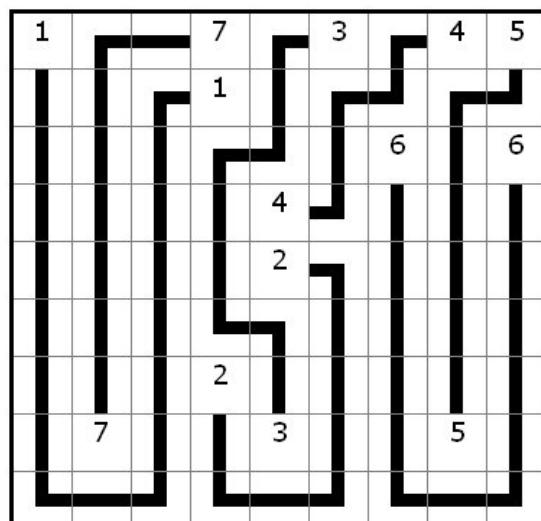
1 : 1			42 : 6		3 : 1		16 : 4	35 : 7
			2 : 2					
						54 : 9		48 : 8
				32 : 8				
				4 : 2				
			10 : 5					
	35 : 5			24 : 8			25 : 5	



Arukone 9 Mathi 16



Lösung nach hinten knicken
 oder abschneiden.



Rechne die Aufgaben aus und schreibe das Ergebnis in das graue Feld.
 Verbinde dann zwei gleiche Ziffern durch eine einzige, durchgehende Linie.
 An jedem grauen Feld beginnt oder endet nur genau eine Linie.
 Die Linien verlaufen nur waagrecht oder senkrecht.
 Die Linien dürfen sich nicht kreuzen.
 Durch jedes Kästchen muss eine Linie laufen.

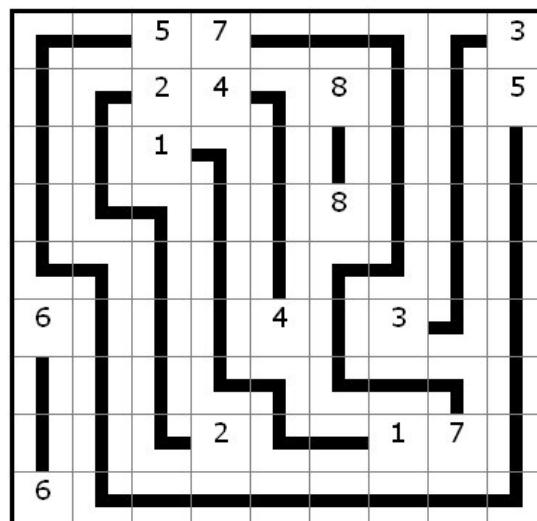
		15 : 3	42 : 6					3 : 1
		8 : 4	16 : 4		64 : 8			20 : 4
		5 : 5						
					32 : 4			
36 : 6				32 : 8		15 : 5		
			16 : 8			2 : 2	63 : 9	
6 : 1								



Arukone 9 Mathi 17



Lösung nach hinten knicken
 oder abschneiden.



Rechne die Aufgaben aus und schreibe das Ergebnis in das graue Feld.
 Verbinde dann zwei gleiche Ziffern durch eine einzige, durchgehende Linie.
 An jedem grauen Feld beginnt oder endet nur genau eine Linie.
 Die Linien verlaufen nur waagrecht oder senkrecht.
 Die Linien dürfen sich nicht kreuzen.
 Durch jedes Kästchen muss eine Linie laufen.

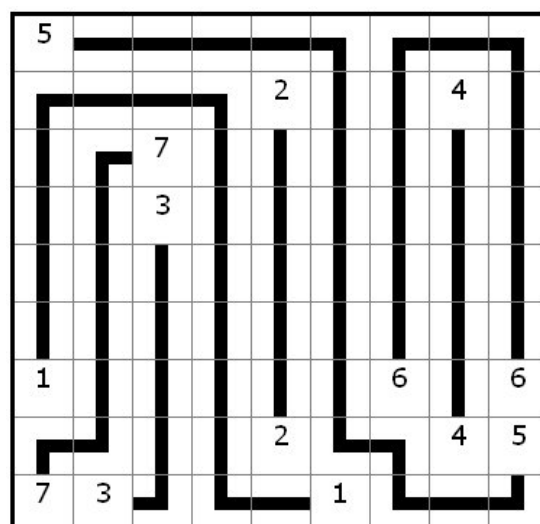
30 : 6								
				10 : 5			32 : 8	
		42 : 6						
		21 : 7						
5 : 5						54 : 9		36 : 6
				8 : 4			36 : 9	10 : 2
49 : 7	27 : 9				2 : 2			



Arukone 9 Mathi 18



Lösung nach hinten knicken
 oder abschneiden.



Rechne die Aufgaben aus und schreibe das Ergebnis in das graue Feld.
 Verbinde dann zwei gleiche Ziffern durch eine einzige, durchgehende Linie.
 An jedem grauen Feld beginnt oder endet nur genau eine Linie.
 Die Linien verlaufen nur waagrecht oder senkrecht.
 Die Linien dürfen sich nicht kreuzen.
 Durch jedes Kästchen muss eine Linie laufen.

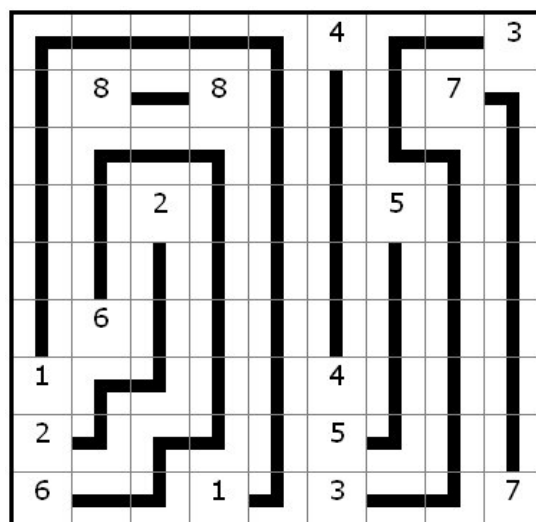
					$32 : 8$			$3 : 1$
	$72 : 9$		$16 : 2$				$49 : 7$	
		$10 : 5$				$45 : 9$		
	$42 : 7$							
$2 : 2$					$16 : 4$			
$12 : 6$					$40 : 8$			
$18 : 3$			$7 : 7$		$15 : 5$			$56 : 8$



Arukone 9 Mathi 19



Lösung nach hinten knicken
 oder abschneiden.



Rechne die Aufgaben aus und schreibe das Ergebnis in das graue Feld.
 Verbinde dann zwei gleiche Ziffern durch eine einzige, durchgehende Linie.
 An jedem grauen Feld beginnt oder endet nur genau eine Linie.
 Die Linien verlaufen nur waagrecht oder senkrecht.
 Die Linien dürfen sich nicht kreuzen.
 Durch jedes Kästchen muss eine Linie laufen.

$40 : 8$			$18 : 3$					
$1 : 1$	$9 : 3$		$35 : 5$			$64 : 8$	$12 : 3$	
				$56 : 7$				
					$49 : 7$			
$25 : 5$				$4 : 1$				
	$4 : 4$	$18 : 6$			$10 : 5$			$4 : 2$
								$54 : 9$



Arukone 9 Mathi 20



Lösung nach hinten knicken
 oder abschneiden.

